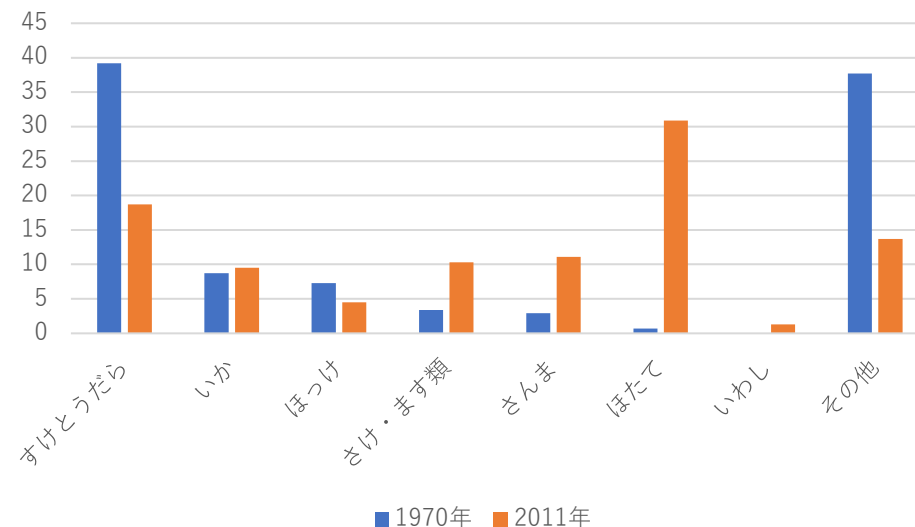


第11問

右のグラフは、1970年、2011年のそれぞれの北海道の漁獲量にしめる水産物の種類の割合の変化を示したものである。すけとうだらのしめる割合が減っている理由は何か。その理由を、「経済水域」と「遠洋漁業」の2つの語句を使って、簡潔に書きなさい。ただし、すけとうだらのおもな漁場はロシア沿岸やアメリカ合衆国のアラスカ沿岸の海である。

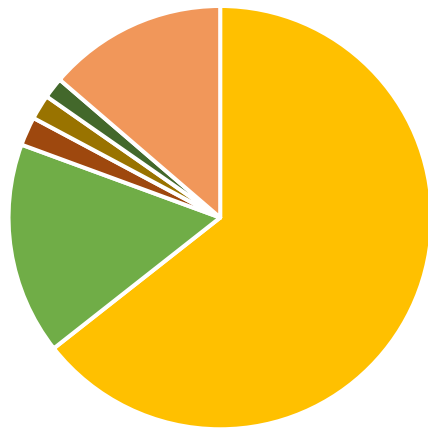
北海道の漁獲量にしめる水産物の種類



第12問

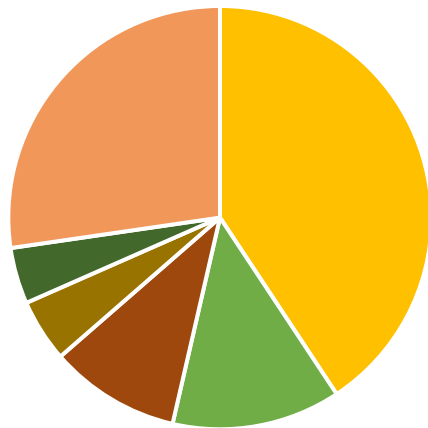
これらの資料はガーナとボリビアの貿易額の品目別割合を示したものである。この2カ国に共通した貿易の特徴を、簡潔に書きなさい。

ガーナの輸出



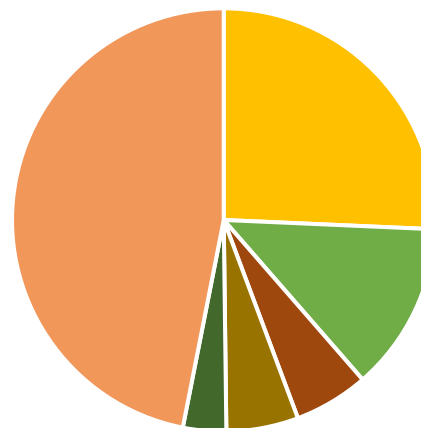
- ガーナの輸出
- 金
- カカオ豆
- アルミニウム
- 合板類
- ココア・バター
- その他

ボリビアの輸出



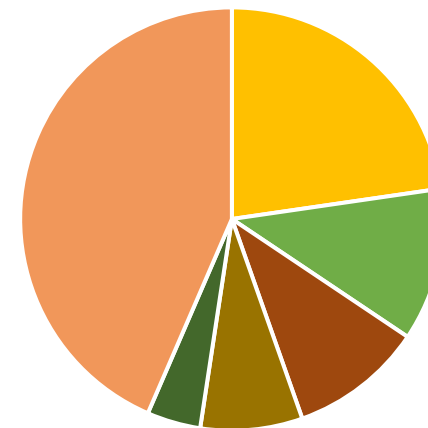
- ボリビアの輸出
- 天然ガス
- 亜鉛鉱
- 銀鉱
- 植物油かす
- すず
- その他

ガーナの輸入



- ガーナの輸入
- 機械類
- 自動車
- 鉄鋼
- 金属製品
- ゴム製品
- その他

ボリビアの輸入



- ボリビアの輸入
- 機械類
- 石油製品
- 自動車
- 鉄鋼
- プラスチック
- その他

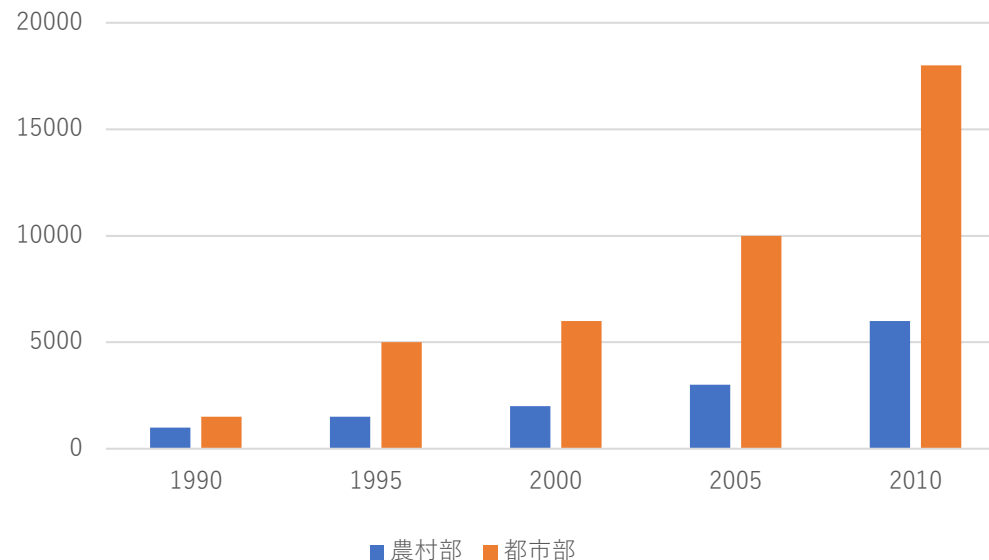
第13問

資料1は、中国の、1990年から2010年までの、総人口および、総人口に対する都市人口と農村人口の割合を示している。また、資料2は、中国の都市部と農村部の、1人あたりの年間所得の推移を示している。資料1から読み取れる、中国の都市人口と農村人口の割合の推移を、その推移の理由として資料2からわかることに関連づけて簡潔に書きなさい。

資料1

年	総人口 (万人)	人口割合 (%)	
		都市	農村
1990	114333	26.4	73.6
1995	121121	29	71
2000	126743	36.2	63.8
2005	130756	43	57
2010	134091	49.9	50.1

(資料2) 中国の都市部と農村部の1人あたりの年間所得の推移

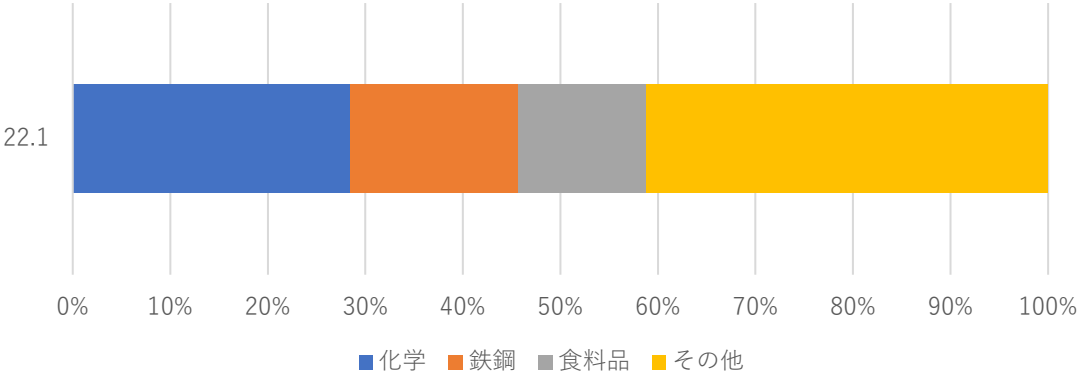


第14問

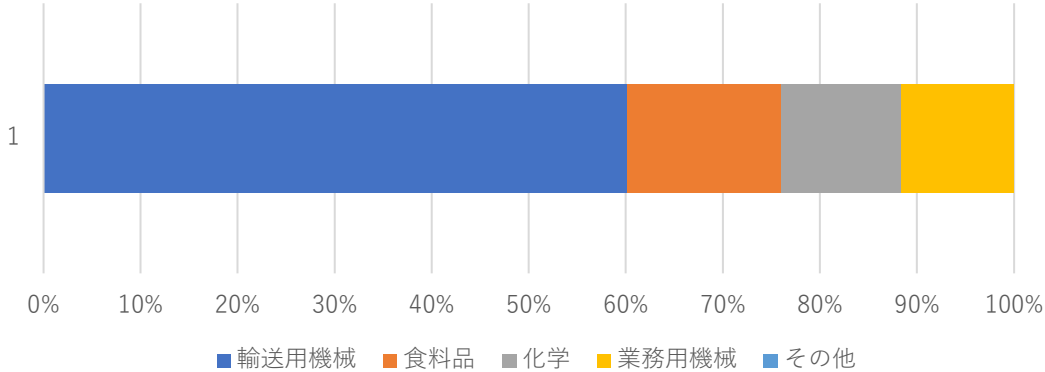
右の資料中のア・イは、群馬県と千葉県の子ずれかの県の製造品出荷額の割合を示している。千葉県はどちらか。記号で答えなさい。また、判断した理由を、「千葉県は、」の書き出しで、次の【 】の中から語句を3つ選び、選んだ語句を使って、簡潔に書きなさい。

【輸送用機械、石油・石炭製品、海、高速道路、原料】

資料（ア）



資料（イ）



第15問

サンフランシスコの空港を現地の時刻で12月1日午後5時に出発する飛行機に乗り、12時間かかって日本の空港に到着した。到着した時刻は、日本の時刻で何月何日の何時であったか。午前か午後をつけて書きなさい。ただし、サンフランシスコの標準時子午線の経度は、西経120度である。